



Vārds

Uzvārds

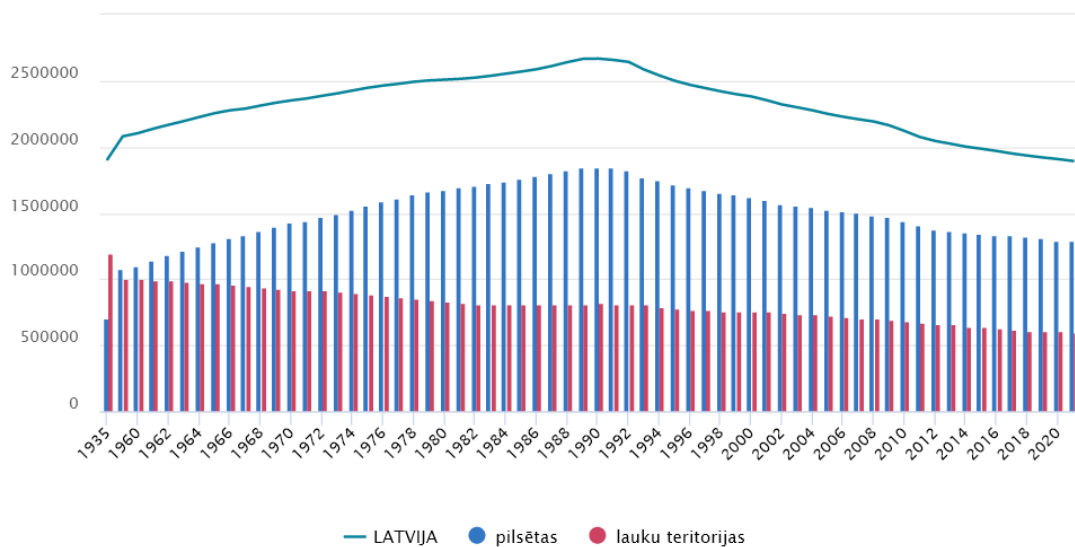
LATVIJAS PILSĒTAS

👉 Pēc apraksta atrodiet, kurai pilsētai atbilst attiecīgais ģerbonis!



- **Jelgavas pilsētas ģerbonis.** Purpura laukā aļņa galva dabīgā krāsā, uz kakla valsts mazais ģerbonis bez zvaigznēm.
- **Liepājas pilsētas ģerbonis.** Uz sudrabota vairoga sarkans Kurzemes lauva ar šķeltu asti, kas ar priekškājām balsta liepu.
- **Rīgas pilsētas ģerbonis.** Sudraba laukā atvērti sarkana mūra vārti ar diviem torņiem. Zem paceltā vārtu režģa zelta lauvas galva. Virs vārtiem divas sakrustotas melnas atslēgas.
- **Valmieras pilsētas ģerbonis.** Zelta laukā zaļa liepa, kam abās pusēs piekārti sarkani vairogi. Liepa izaug no sarkanas vērša pieres.
- **Daugavpils pilsētas ģerbonis.** Zilā laukā sudraba viļņota sija, augšā zelta lilija, lejas daļā sudraba ķieģeļu mūris.

👉 Apskatiet infografiku „Iedzīvotāju skaits pilsētās un lauku teritorijās”. Izvērtējiet apgalvojumus!



(<https://stat.gov.lv>)

👉 Atzīmējiet (X), vai apgalvojums ir pareizs (Jā) vai nepareizs (Nē)!

Apgalvojums	Jā	Nē
Iedzīvotāju skaits Latvijā samazinās.		
Mazāk nekā puse Latvijas iedzīvotāju šobrīd dzīvo lauku teritorijās.		
1935. gadā lauku teritorijās dzīvoja vairāk iedzīvotāju nekā pilsētās.		
Lauku teritorijās dzīvojošo skaits ievērojami palielinās.		
Šobrīd pilsētās un lauku teritorijās dzīvojošo skaits atšķiras mazāk nekā 1990. gadā.		
Pēc 1960. gada arvien vairāk iedzīvotāju sāk dzīvot pilsētās.		

👉 Uzrakstiet trīs patiesus apgalvojumus par infografikā ietverto informāciju!

1.

2.

3.