

Latvijas karte

1.uzdevums.

Aplūko pasaules karti! Vai zini, kur atrodas Latvija?

- Kartē atzīmē valsti, kurā tu dzīvo!
- Kartē atzīmē Latviju!



2.uzdevums.

Kurā kontinentā atrodas Latvija? Kurš kontinents atrodas tuvu Latvijai, kurš vistālāk no Latvijas? Pabeidz teikumus!

Latvija atrodas _____ (kontinentā).

Latvijai vistuvāk ir _____ (kontinents).

No Latvijas vistālāk atrodas _____ (kontinents).

! Interaktīvās darba lapas.

Eiropas valstis (19.2) , Mēs esam dažādi (19.3,19.4) Pasaules okeāni (30.5)
https://maciunmacies.valoda.lv/speles/lva_begliem_7-9_g/index.html

3.uzdevums.

Lasi, kā radies vārds Latvija! Vārdus, kurus nesaproti, pasvītro!
Vārdu skaidrojumus var atrast <https://tezaurs.lv/>. Vari jautāt arī skolotājam.

Par to, kā radies vārds Latvija, nav pierādījumu, bet ir divi pieņēmumi.

1. Senos laikos gar mūsdienu **Latvijas un Lietuvas robežu tecējusi neliela upīte Latva jeb Latava**. Iespējams, ka pirmie savu kaimiņu teritoriju tā sāka saukt lietuvieši.

2. Vārds *Latvija* pirmo reizi pieminēts 13. gadsimtā sarakstītajā *Livonijas Indriķa hronikā*, kurā latgaļu apdzīvotie novadi **viduslaiku latīņu valodā saukti par „Lettia” vai „Letthia”**.

4.uzdevums.

Aplūko Latvijas kartes! Par ko katra karte stāsta? Pabeidz iesāktos teikumus!



Atceries!

Kontinentus, valstis, pilsētas, okeānus, jūras, upes, ezerus u.c. ģeogrāfiskos nosaukumus

raksta ar lielo burtu.

Šajā kartē var uzzināt par Latvijas _____.

Latvijā ir 4 kultūrvēsturiskie novadi - _____,

_____.

_____.



Noklausies dialektus! <https://valoda.lv/valsts-valoda/dialekti/>

Šajā kartē var uzzināt par Latvijas _____.

Latvijā ir 3 dialekti - _____,

_____.

_____.



Šajā kartē var uzzināt, ka Latvija robežojas ar _____,

_____.

_____.

_____.

5.uzdevums.

Lasi uzziņas par Latviju!

- ✓ **Latvijas robežas** kopējais garums ir 1836 km, no tiem 1382 km ir sauszemes robeža.

!Aprēķini, cik gara ir **ROBEŽA GAR JŪRU?**

- ✓ **Latvija robežojas:** ziemeļos - ar Igauniju; austrumos - ar Krieviju; dienvidaustrumos - ar Baltkrieviju; dienvidos - ar Lietuvu.
- ✓ **Latviju rietumos apskalo Baltijas jūra, bet ziemeļos - Rīgas jūras līcis.**
- ✓ Latvijas galvaspilsēta ir Rīga.
- ✓ Latvijas platība - 64 589 km².
- ✓ **iedzīvotāju skaits 2020. gada sākumā bija 1,908 miljoni.**
- ✓ **Valsts oficiālā valoda ir latviešu valoda.**
- ✓ **Baltijas valstis** ir trīs Eiropas Savienības valstis Baltijas jūras austrumu piekrastē — **Latvija**, Lietuva un Igaunija.



6.uzdevums.

Skaties kartē un atbildi uz jautājumiem!

Ar zīmuli zīmē, kā tas notiks!

!Interaktīvās darba lapas.

Latvijas kaimiņvalstis (23.3)
https://maciunmacie.s.valoda.lv/speles/lva_begliem_7-9_g/index.html



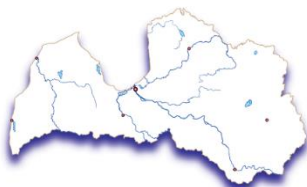
*Vai tu vari apiet **ap** Latviju?*



*Vai tu vari pieiet **pie** Latvijas?*



*Vai tu vari aizbraukt **aiz** Latvijas?*



*Vai tu vari atbraukt **uz** Latviju?*



*Vai tu vari pabraukt **zem** Latvijas?*

Latvijas pilsētas un pagasti

1.uzdevums.

Kartē atzīmētas Latvijas pilsētas. Aplūko karti, atrodi vietu, kur tu dzīvo šobrīd! Vai šī vieta ir pilsēta vai pagasts?



Es dzīvoju _____, tā/tas ir _____.

Netālu atrodas _____ pagasts.

Vistuvāk _____ (manai dzīvesvietai) ir
_____ (pilsēta).

!Interaktīvās darba lapas.

Latvijas karte(18.1) ,Latvijas pilsētas(18.4),Latvijas novadu tautastērpi (18.5)
Apceļo Latviju (28.4)

https://maciunmacies.valoda.lv/speles/lva_begliem_7-9_g/index.html

Mēs ceļojam pa Latviju (10)

https://maciunmacies.valoda.lv/speles/Latviesu_val_2-klase/default.html

2.uzdevums.

Ieraksti kartē Latvijas lielāko pilsētu nosaukumus!

Rīga

Daugavpils

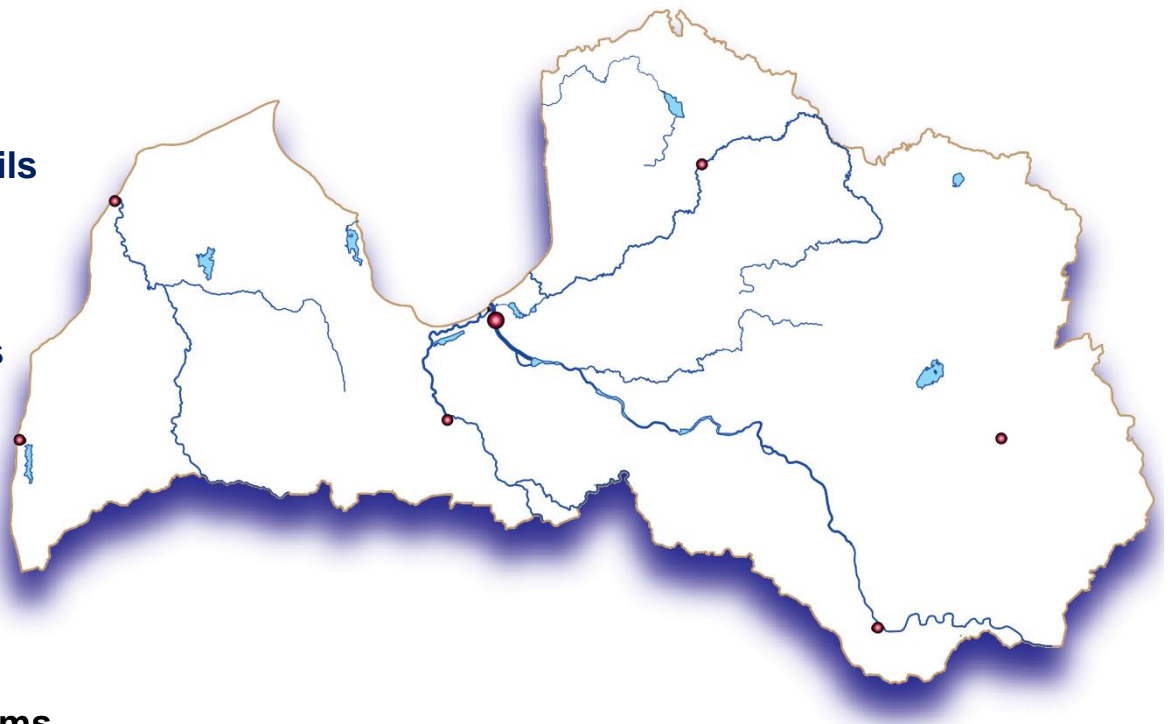
Jelgava

Liepāja

Ventspils

Valmiera

Rēzekne



3.uzdevums.

Izmantojot <https://www.google.lv/maps/>, noskaidro, cik kilometru (km) no tavas dzīvesvietas atrodas Rīga! Cik kilometru (km) no tavas dzīvesvietas atrodas Liepāja, cik kilometru (km) – Daugavpils! Aprēķini, par cik kilometriem (km) garāks ir ceļš no tavas dzīvesvietas līdz vistālākajai pilsētai.

Piemērs.

No Krimuldas līdz Liepājai ir 260 km.


No Krimuldas līdz Rīgai ir 46 km.

No Krimuldas līdz Daugavpilij ir 232 km.

Secinājums. Vistuvāk Krimuldai atrodas Rīga. Vistālāk atrodas Liepāja.

$260 - 46 = 214(\text{km})$

Liepāja no Krimuldas ir par 214 km tālāk nekā Rīga.

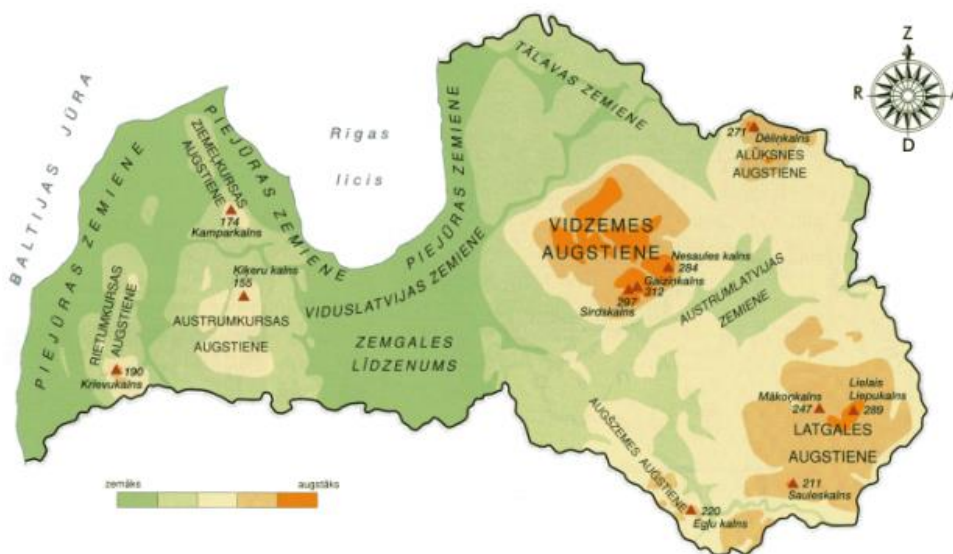


3.

Latvijas kalni, meži un pļavas

1.uzdevums.

Aplūko karti un padomā, kāpēc kartē ir dažādi krāsu toņi!



Savieno!

	ZAĻŠ
	GAIŠI BRŪNS
	BRŪNS

**ZEMIENES
UN
LĪDZENUMI**

PAAUGSTINĀJUMI

AUGSTIENES

Latvijas augstieņu augstākie punkti	
Gaiziņkalns	311,94 m
Lielais Liepukalns	289,3 m
Dēliņkalns	271,5 m
Egļukalns	220,0 m
Krievu kalns	189,5 m
Kamparkalns	173,8 m

**1m – 100 cm
1km – 1000 m**

2.uzdevums.

Lasi teiku “Sudrabkalns”! Vārdus, kurus nesaproti, pasvītro! Vārdu skaidrojumus var atrast <https://tezaurs.lv/> . Vari jautāt savai skolotājai.

“Sudrabkalns”

Priekš daudz, daudz gadiem tur, kur tagad ir kalns, atradās skaista sudraba pils. Pilī valdīja varens un bargs valdnieks. Savus darbiniekus tas dzina no rīta līdz vakaram - cauru dienu, cauru nakti. Pils pārvaldnieks neieredzēja nabagus un vecus. Tie nedrīkstēja pils tuvumā rādīties. Tie tika mocīti un ar suņiem padzīti. Ļaudis lādēja pilskungu un nevarēja nolādēt. Agri kādā svētdienā pie pils vārtiem piekļauvēja kāds vecs vīriņš. Pie vārtiem gadījās pats pils kungs, kurš gāja uz riju raudzīt kūlējus. Tas uzprasīja vecītim, ko te meklējot. Vecītis lūdzis paēst un atļauju pilī atpūsties. Kungs uzklēdzis, lai taisoties prom - te neesot nabagu barotava. Palaidīšot vaļā suņus. Tad vecītis teicis: "Lai šī pils nogrimst uz visiem laiku laikiem ar visu savu kungu! Pils varēs pacelties tikai tad, kad nosauks tās vārdu." Pils tūlīt nogrima, bet tās vietā pacēlās kalns. Pils bija no sudraba, tāpēc kalns nosaukts par Sudrabkalnu.

Šī teika stāsta par kāda kalna izcelšanos, kurš atrodas Jēkabpils apriņķī Sēlpils pagastā pie Pormaļu mājām un saucas Sudrabkalns.



! Skaties Pormaļu kalna 3D modeli.

https://www.youtube.com/watch?time_continue=4&v=YPZHYiVuvqs&feature=emb_logo

3.uzdevums.

Lasi informāciju par pļāvām! Vārdus, kurus nesaproti, pasvītro. Vārdu skaidrojums var atrast <https://tezaurs.lv/> Vari jautāt savai skolotājam. Noskaties filmiņu par Latvijas pļāvām!



Pļavu veido daudzgadīgi lakstaugi. Pļavas parasti ir izveidojušās ilgstošas lopu ganīšanas un pļaušanas rezultātā.

Latvija atrodas mežu zonā. Tas nozīmē, ka gandrīz neviena pļava pie mums nevar ilgstoši pastāvēt, ja tā netiek īpaši uzturēta – tajā ganīti lopi vai tā tiek pļauta. Ja pļāvās netiek ganīti lopi vai tās netiek pļautas, pamazām pļavas aizaug ar kokiem vai krūmiem.

(<http://latvijas.daba.lv/biotopi/plavas.shtml>)



āboliņš rudzupuķe magone margrietīņa smilgas madara

4.uzdevums.

Uzzīmē puķu pušķi no dažādām pļavu puķēm! Izstāsti, kādas puķes izmantoji savā pušķī! Kāpēc?

Blank area for drawing and writing.

5.uzdevums.

Iepazīsties ar sēnēm, kas aug Latvijas mežos!


Mežā aug dažādas sēnes – gan indīgas, gan ēdamas.

Indīgās sēnes ir **mušmires**.



Ēdamo sēņu ir daudz. Sēņu karaliene ir **baravika**.



Dzeltenā **gailene**  var lepoties ar to, ka tajā nav tārpu.

Bērslapes  ir dažādās krāsās.

Apšu bekām  ir oranžas cepurītes.


Zem priedēm aug **priežu bekas**,



bet **vilnīši**  ir sārtā krāsā.

6.uzdevums.

Savieno, kuras sēnes liksi savā groziņā!



!Interaktīvās darba lapas.

Pastaiga mežā (9.1-9.5)https://maciunmacies.valoda.lv/speles/lva_begliem_7-9_g/index.html

7.uzdevums.

Cik sēņu nosaukumu vari atrast? Uzraksti tos!

GAI	VIL	NĪ	TIS
LE	BĒRZ	LA	PE
NE	MUŠ	MI	RE
BA	RA	VI	KA

8.uzdevums.

Lasi frazeoloģismus un informāciju par kokiem! Secini, kāpēc radies tieši šāds frazeoloģisms!



OZOLS - parastais ozols izaug liels, tam ir vērtīga koksne, augļi — rieksti, kurus sauc arī par zīlēm jeb ozolzīlēm.



LIEPA — apmēram 30 m augsts koks ar plašu vainagu. Jauniem kokiem miza gluda, vēlāk rievaina. Jaunie dzinumi sarkanīgi vai olīvzaļi, lokani.



EGLE - pēc formas tās ir koniskas vai piramīdveidīgas. Egļu augstums sasniedz 20—60 metrus. Latvijā savvaļā aug tikai parastā egle.



BĒRZS - Latvijā bieži sastopams koks. Tas ir līdz 35 m garš, vasarzaļš koks. Miza balta, veido noplēšamu tāsī.

Pazust kokos — ātri, veikli nozūst.

Apmaldīties trīs priedēs – nespēt atrisināt kaut ko vienkāršu.

Viens kā koks — vientuļš (par cilvēku).

Smuidras (slaidis, lokans) kā liepas – slaidis, lokans augums.

Trīs kā apšu lapa – nobijies.



PRIEDE - parastās priedes mūža ilgums ir 200-500 gadu. Sausos mežos augušām priedēm raksturīgs garš, tievs stumbrs.



APSE- apses sasniedz līdz 40 m augstumu. Mūža ilgums 100—150 gadu. Lapu kātiņi gari un saplacināti galos, tāpēc lapas trīs pat pie vieglām gaisa vai zaru kustībām.

8.uzdevums.

Iepazīsties ar dzīvniekiem, kuri dzīvo Latvijas mežos un pļavās!



BEBRS



ZALKTIS



MEŽACŪKA



ALNIS



ZAĶIS



ĀPSIS



LŪSIS



VĀVERE



KURMIS



CAUNA



LĀCIS



STIRNA



VILKS



ŪDENSŽURKA



EZIS



PELE



LAPSA



ŽURKA



SIKSPĀRNIS

9.uzdevums.


Atrodi dzīvnieku nosaukumus!

M	E	Ž	A	C	Ū	K	A	K	K	W	M	M	M	A	S	C	F	K
N	X	T	F	A	D	X	F	N	F	L	U	R	G	L	T	L	J	N
D	E	C	C	H	E	Z	I	S	X	L	U	V	N	T	N	A	A	K
F	B	K	K	E	N	U	S	P	G	C	U	O	K	A	H	J	R	Q
Q	M	X	B	J	S	T	E	B	S	A	A	Z	A	L	K	T	I	S
Z	J	I	E	L	Ž	L	Ū	S	I	S	C	A	U	N	A	G	S	S
M	J	N	B	Ā	U	A	K	M	K	A	A	K	V	H	I	V	G	R
C	Q	W	R	C	R	P	Ā	V	U	L	V	I	L	V	C	T	U	Z
U	L	Y	S	I	K	S	P	Ā	R	N	I	S	C	O	L	U	L	D
Q	Q	Y	T	S	A	A	S	V	M	I	L	Y	D	O	T	W	F	V
Q	G	C	I	C	D	Q	I	E	I	S	K	C	S	Y	S	O	M	I
Z	U	X	R	P	K	T	S	R	S	E	S	G	Z	N	M	N	M	X
X	T	X	N	H	S	D	P	E	L	E	H	U	F	V	X	W	Q	B
P	K	A	A	C	Q	A	W	N	B	E	D	A	H	Q	Z	Y	R	E

1. BEBRS
2. SIKSPĀRNIS
3. LAPSA
4. LĀCIS
5. VILKS
6. ZAĶIS
7. VĀVERE
8. ALNIS
9. ŪDENSŽURKA
10. ĀPSIS
11. KURMIS
12. LŪSIS
13. PELE
14. STIRNA
15. CAUNA
16. ŽURKA
17. ZALKTIS
18. MEŽACŪKA
19. EZIS

10.uzdevums.

Uzzīmē zaķi!





Latvijas ezeri, upes un jūra

1.uzdevums.

Aplūko karti! Aizpildi tabulu!




JŪRA	
LĪCIS	
EZERI	
UPES	

2.uzdevums.

Aplūko attēlu un atbildi uz jautājumiem! Atceries, atbilde ir puse no jautājuma!

KO TU REDZI ATTĒLĀ?
KO DARA MAKŠĶERNIEKS?
KAS TUP PIE ŪDENSKRITUMA?
KUR IR KRĀCES?
KĀ VAR PĀRIET PĀRI UPEI?
KAS ZIED EZERĀ?
KAS ĀTRODAS SPAINĪ?



Es attēlā redzu _____.

Makšķernieks _____.

Pie ūdenskrituma tup _____.

!Interaktīvās darba lapas.

Latvijas pilsētu, ezeru un upju nosaukumi(4) https://maciunmacies.valoda.lv/speles/Latviesu_val_3-klase/z1/19.html

No avota līdz jūrai (29.2 – 29.6) https://maciunmacies.valoda.lv/speles/lva_begliem_7-9_g/index.html

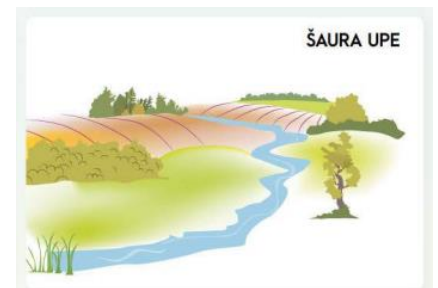
3.uzdevums.

Aplūko attēlus un padomā, kāda atšķirība ir lielam un mazam ezeram, šaurai un platai upei. Aizpildi tabulu!

	JĀ	NĒ
Vai tu vari apiet ap ezeru?		
Vai tu vari pāiet zem ezera?		
Vai tu vari pieiet pie ezera?		
Vai tu vari iet uz ezeru?		
Vai tu vari pārpeldēt pār ezeru?		
Vai tu vari iet pa ezeru?		
Vai tu vari aiziet aiz ezera?		



	JĀ	NĒ
Vai tu vari apiet apkārt upei?		
Vai tu vari pāiet zem upes?		
Vai tu vari pieiet pie upes?		
Vai tu vari iet uz upi?		
Vai tu vari peldēt pāri upei?		
Vai tu vari peldēt pa upes straumi?		
Vai tu vari aiziet aiz upes?		



4.uzdevums.

Lasi informāciju par Ventas rumbu! Vārdus, kurus nesaproti, pasvītro! Vārdu skaidrojumus var atrast <https://tezaurs.lv/>. Vari jautāt savai skolotājai.

!Skaties – Ventas rumba https://www.youtube.com/watch?v=P_R48mxF-Mo

“LIDOJOŠĀS ZIVIS” Ventas rumbā <https://www.youtube.com/watch?v=e6C9ZWsQyYk>

Latvijā atrodas platākais ūdenskritums Eiropā – Ventas Rumba. Atrodas uz Ventas Kuldīgā. Rumbas platums ir atkarīgs no ūdens daudzuma, vidēji tas ir 100 — 110 m, palu laikā sasniedz pat 270 m, augstums - 1,6 — 2,2 m. Ventas rumba tās tuvumā rada pastāvīgu šalkoņu. Pavasaros pēcpusdienas saulē var redzēt, kā zivis cenšas uzveikt rumbu un pārlēkt tai pāri. Zivis lec aptuveni mēnesi - aprīlī. Labāk šo dabas parādību vērot, noejot pie Rumbas Mārtiņsalas pusē.

5.uzdevums.

Aplūko, kādas zivis sastopamas Ventā!



ASARIS



KARPA



KARŪSA



LĪDAKA



VIMBA



ZANDARTS

6.uzdevums.Atzīmē kartē pilsētu, upju un ezeru nosaukumus!

Pilsētas

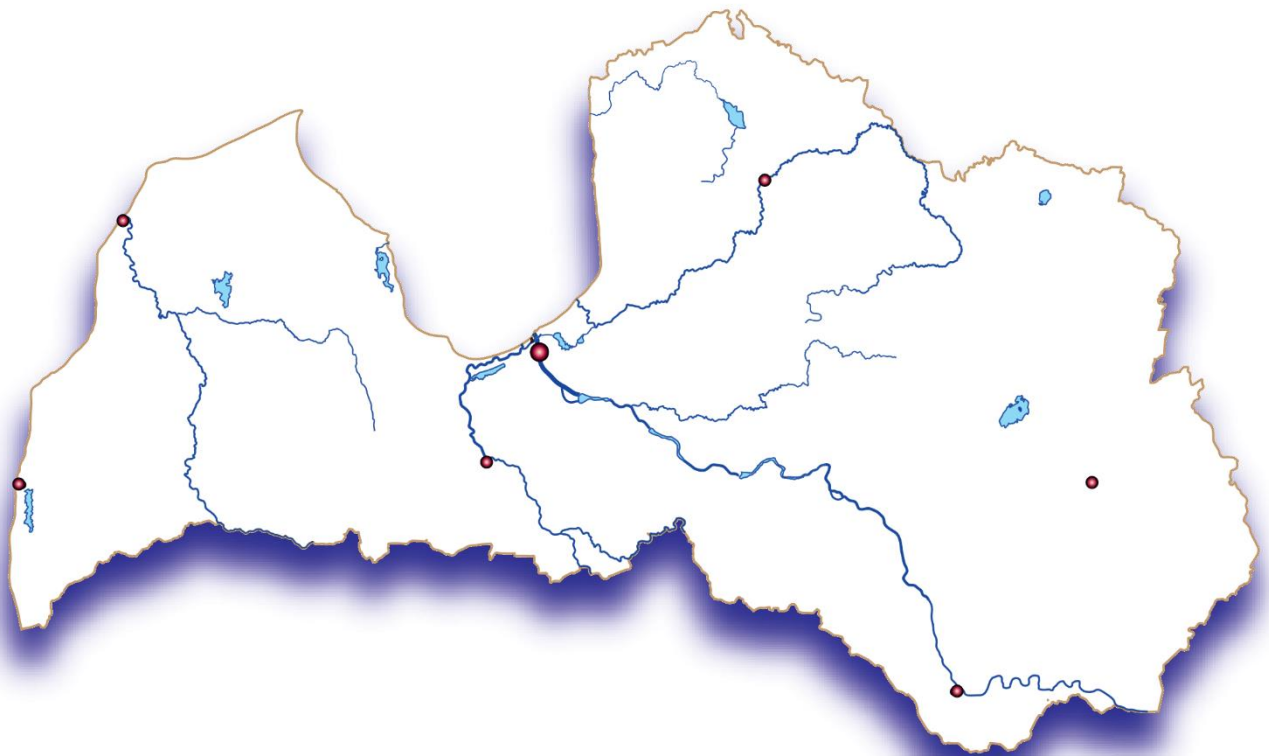
Rīga
Daugavpils
Jelgava
Liepāja
Ventspils
Valmiera
Rēzekne

Upes

Daugava
Gauja
Lielupe
Venta
Salaca
Abava
Ogre

Ezeri

Lubāns
Burtnieks
Usmas ezers
Liepājas ezers
Engures ezers
Babītes ezers
Ķīšezers





Latvijas simboli

Katrai valstij ir savi simboli –



KAROGS



ĢERBONIS



HIMNA

1.uzdevums.

**Lasi teiku par sarkanbaltsarkanā karoga rašanos!
(pierakstīta 1920. gadā).**

Senos laikos igauņi esot ielenkuši latviešu pili. Pilī ielenktie sākuši domāt par padošanos, līdz kāds pils koklētājs aicinājis doties uzbrukumā. Tika nokauts auns, koklētājs norāvis savu balto kreklu un samērcējis auna asinīs. Kad krekls izvilkts no asinīm, tas bijis sarkans, tikai vieta drēbes vidū, kuru koklētājs mērcēšanas laikā turējis rokā, palikusi balta. Ar šo sarkanbaltsarkano pie kārts piestiprināto drēbi latvieši padzinuši ienaidnieku.

Latvijas valsts karoga vēsture

<https://www.youtube.com/watch?v= wskJFLvCP0>

Karoga stāsts <https://www.youtube.com/watch?v=wG3wsXckSmk>

2.uzdevums.


Pastāsti, ko tu zini par tās valsts karogu, kurā tu dzīvo!

3.uzdevums.

Zem ģerboņiem lodziņā ieraksti to nosaukumus!

LR lielais ģerbonis,

LR papildinātais mazais ģerbonis, LR mazais ģerbonis



4.uzdevums.

Lasi informāciju par Latvijas himnu!

Baumaņu Kārļa kompozīcija "Dievs, svētī Latviju!" tika apstiprināta par Latvijas Republikas himnu pirms 100 gadiem, 1920. gada 7. jūnijā.

! Skaties un klausies Latvijas himnu! <https://www.youtube.com/watch?v=j7dCvf5RL24>

5.uzdevums.

Iemācies vārdus un dzied!

Dievs, svētī Latviju,
Mūs' dārgo tēviju,
Svētī jel Latviju,
Ak, svētī jel to!

Kur latvju meitas zied,
Kur latvju dēli dzied,
Laid mums tur laimē diet,
Mūs' Latvijā!"

6.uzdevums.


Pabeidz teikumus!

Pret valsts simboliem jāizturas ar _____


Tos nedrīkst _____

7.uzdevums.

Izkrāso!



Ozols




Pīpene



Dzintars




Divpunktu mārīte



Cielava



Liepa



Brīvības piemineklis



Daugava


6.

Latvijas svētki

1.uzdevums.

Aplūko attēlu un nosauc tajā redzamos Latvijas simbolus! Kādi svētki ir attēloti?

! Valsts svētku ceļvedis <https://latvia.eu/lv/valsts-svetki>



2.uzdevums.

Izdomā kādu priekšnesumu, ko tu varētu veltīt Latvijai 18.novembrī!

Par godu Latvijas dzimšanas dienai tiek organizēti koncerti. Katra Latvijas pilsēta vai pagasts Latvijai velta īpašu koncertu vai svinīgu pasākumu, kurā tiek izdejas dejas, dziedātas dziesmas, skaitīti dzejoļi, sumināti īpaši cilvēki.

! 100 dzejoļi Latvijai <https://www.youtube.com/watch?v=i1nXuocwu04&t=25s>
18.novembra koncerts https://www.youtube.com/watch?v=Bh_OULG6A8A

Dzejolis par Latviju

Latvija ir _____

(īpašības vārdus)

Man patīk tās _____

(par dabu)

Latvijai es atdotu _____

Lai tā _____.

Kad es _____,

Es redzu _____,

Latvija, _____,

Tu _____



Latvija

1.uzdevums.

Izveido Latvijas pasi!

Valsts _____

Dzimšanas diena _____

Vecums _____

*Garums un
platums* _____

Valoda _____

Prezidents _____

Himna _____

Karogs _____

Simboli _____

Ievērojami mūziķi _____

Ievērojami sportisti _____

Ievērojami rakstnieki _____

